




00:03

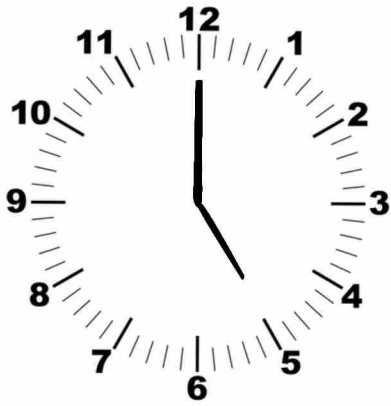
15:45

Werkboekje  
**Klokkijken**  
Groep 5 & 6

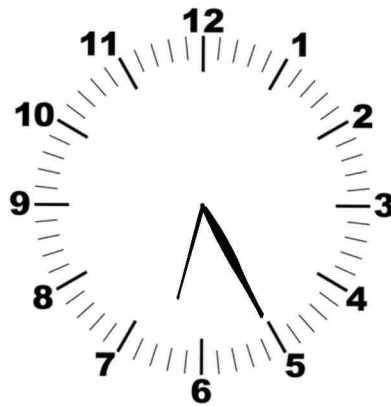
Februari 2022



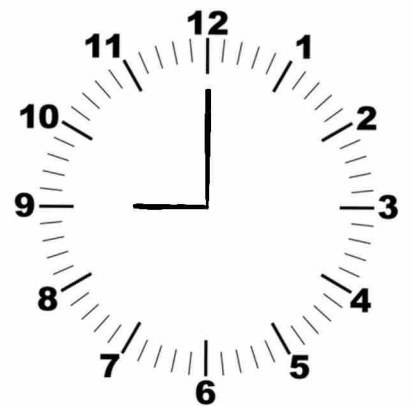
# Hoe laat is het?



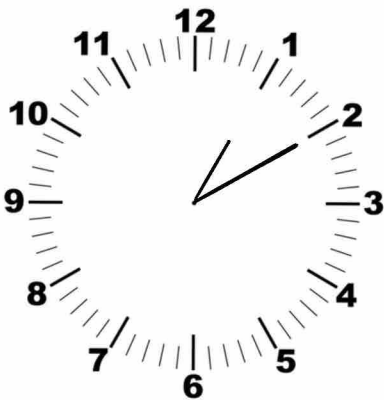
.....




.....



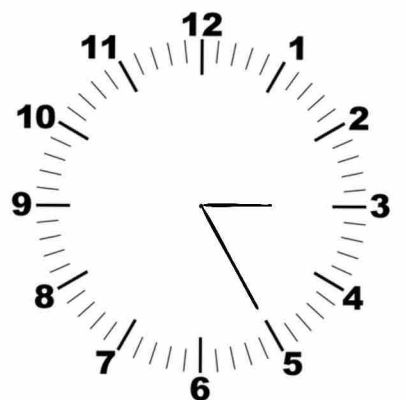
.....



.....



.....



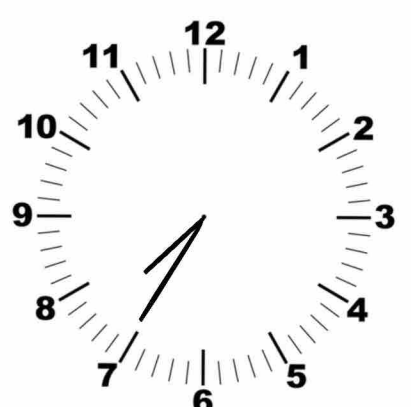
.....



.....



.....



.....

# Redactiesommen



1. Ronaldo heeft 20 minuten nodig om zich klaar te maken voor voetbal. Ronaldo begint zich klaar te maken om 17.15. Hoelaat begint voetbal?

.....

2. De zwemles van Valentino duurt 35 minuten. Valentino begint om 16.30. Tot hoelaat duurt zijn zwemles?

.....

3. Jah-marley heeft 45 minuten op zijn switch gespeeld, hij heeft nog 15 minuten schermtijd. Hoeveel schermtijd heeft hij in totaal?

.....

4. De karateles van Tariq begint om 16.50. De les duurt 50 minuten. Hoelaat is Tariq klaar met zijn karateles?

.....

5. Lanyshia maakt armbandjes. Ze heeft 10 minuten nodig voor 1 armbandje. Ze maakt er 7. Hoeveel minuten is zij bezig met het maken van armbandjes?

.....

6. De peutergym van Hamza duurt 30 minuten. De les begint om 11.00. Hamza volgt 2 peutergym lessen achter elkaar. Hoelaat is Hamza klaar?

.....

7. Marsha heeft 47 minuten nodig om bij het zwembad te komen. Ze vertrek om 10.20. Hoelaat komt Marsha aan bij het zwembad ?

.....

# Hoe lang duurt de reis?



Begintijd:

Eindtijd:

Aantal uren \ minuten:

06:00

09:25

3 uur en 25 minuten

07:55

08:15

12:30

12:47

14:56

15:00

11:55

13:45

10:45

12:55

09:15

11:20

00:00

03:06

20:00

06:30

12:05

13:03

# Hetzelfde als?



40 minuten  
over 3




Tien over  
half vier

45 minuten  
over 3



Vijf over  
half vier

15 minuten  
over 3




Tien voor  
half vier

50 minuten  
over 3



Kwart voor  
vier

20 minuten  
over 3



Tien over drie

10 minuten  
over 3



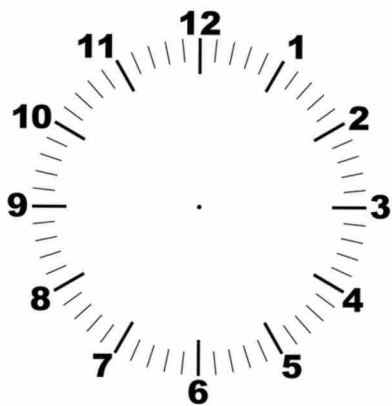
Tien voor vier

35 minuten  
over 3

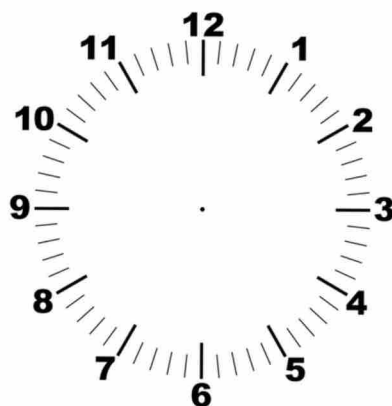


Kwart over  
drie

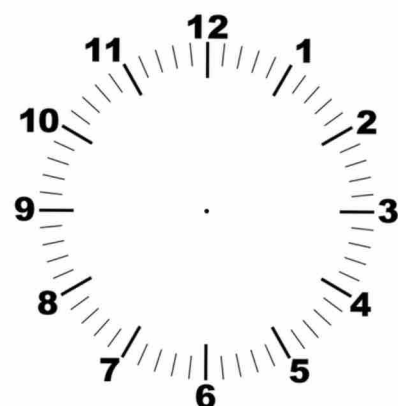
# Hoe laat is het?



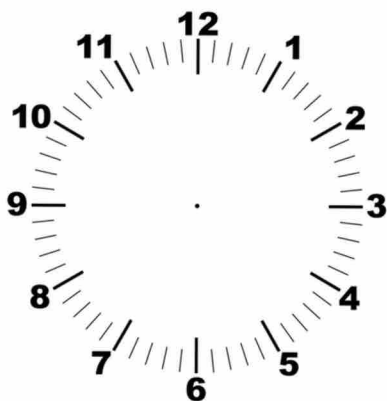
**16:20**



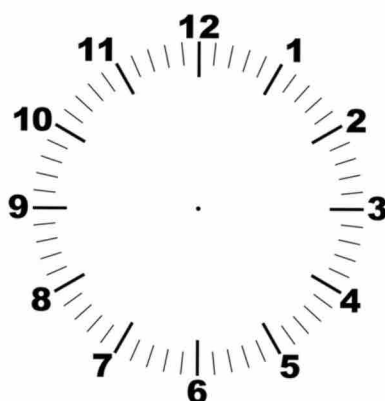
**13:00**



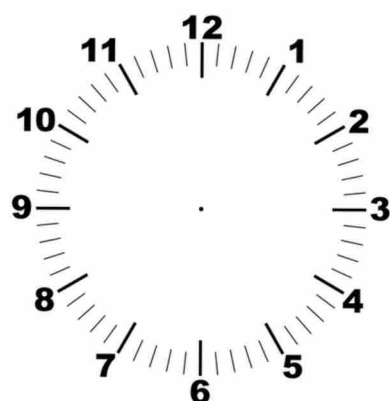
**19:30**



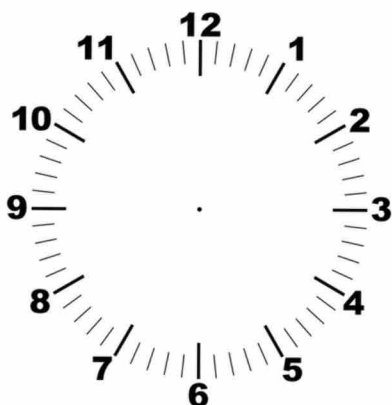
**20:45**



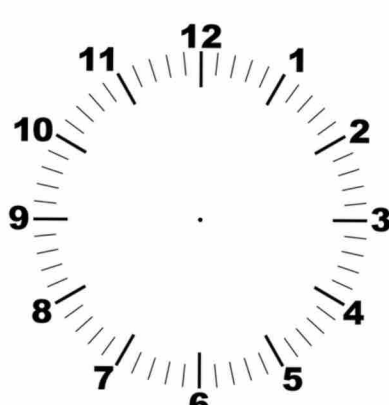
**02:15**




**15:35**



**17:17**

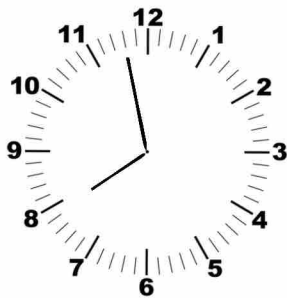


**14:40**



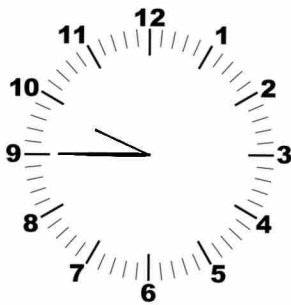
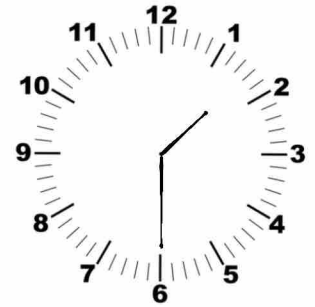
**00:00**

# Het zelfde





• **09:45**

**15:00**



• **07:58**

**18:56**



• **14:30**

**01:30**

